



PREFEITURA MUNICIPAL DE PARANAGUÁ  
Secretaria Municipal de Educação e Ensino Integral

# CADERNO DE ATIVIDADES Nº18 DA CLASSE ESPECIAL



De 7 a 11/9

# LÍNGUA PORTUGUESA

- CONSTRUÇÃO DO SISTEMA ALFABÉTICO. (EF01LP03)

PINTE A PLACA ONDE SE ENCONTRA O NOME DA IMAGEM ACIMA




RALO
RATO
MATO



REMO
RETA
REI



RIFA
RITA
RICA



RÔBO
RODA
ROMA




RUMO
RUA
RÚCULA




RAIO
RALO
RÁDIO



RELÓGIO
REMO
RECADO



RÔBO
RODA
ROLO




REMO
REI
REDE

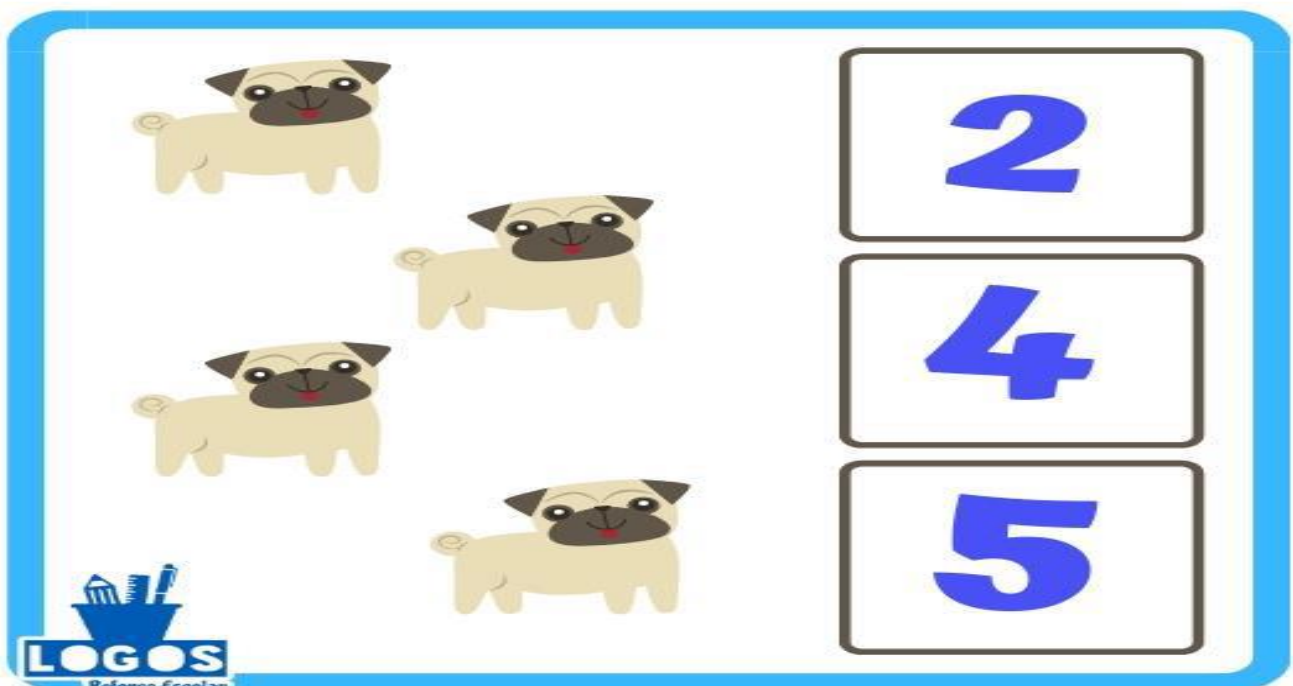
## MATEMÁTICA

- ADIÇÃO (EF01MA07).

AGORA VAMOS CONTAR E PINTAR O QUADRADO QUE ESTA COM A QUANTIDADE CORRESPONDENTE DOS ANIMAIS ABAIXO:



4  
3  
6



2  
4  
5

# CIÊNCIAS

- HÁBITOS DE HIGIENE. (EF01CI02).



RECORTE OS PASSOS DA HIGIENIZAÇÃO CORRETA DAS MÃOS E COLE NA OUTRA FOLHA DE ACORDO COM A ORDEM.



[www.amorensina.com.br](http://www.amorensina.com.br)



PREFEITURA MUNICIPAL DE PARANAGUÁ  
Secretaria Municipal de Educação e Ensino Integral

# HISTÓRIA

- DATA COMEMORATIVA; (EF02HI01).


OBSERVE A BANDEIRA DO BRASIL E RESPONDA A PROXIMA ATIVIDADE .





PREFEITURA MUNICIPAL DE PARANAGUÁ  
Secretaria Municipal de Educação e Ensino Integral

## 7 DE SETEMBRO – INDEPENDÊNCIA DO BRASIL



ESTA É A BANDEIRA DO \_\_\_\_\_

QUAIS SÃO AS CORES DA BANDEIRA?

---

---

QUANTAS SÃO?

O QUE ESTÁ ESCRITO NA BANDEIRA?

---

# GEOGRAFIA

- MEIOS DE TRANSPORTE (EF02GE03);

## CONTRAMÃO

VAMOS PINTAR OS DOIS  
VEÍCULOS QUE ESTÃO NO  
SENTIDO **CONTRÁRIO**  
AOS DEMAIS?

